

# ITINERÁRIO FORMATIVO

# 2025

## ENSINO MÉDIO REGULAR NOTURNO

### 1º Ano | 1º Trimestre

### Matemática e suas Tecnologias

Secretaria  
de Educação



GOVERNO DE  
**PER  
NAM  
BU**CO  
ESTADO DE MUDANÇA

**Secretário Executivo do Ensino Médio e Profissional**  
*Paulo Fernando de Vasconcelos Dutra***Equipe de Elaboração***Regina Celi de Melo André***Equipe de coordenação***Ana Laudemira de Lourdes de Farias Lages Alencar Reis*  
Gerente Geral de Políticas Educacionais do Ensino Médio (GGPEM/SEMP)*Reginaldo Araújo de Lima*  
Superintendente de Ensino (GGPEM/SEMP)*Rômulo Guedes e Silva*  
Gestor de Formação e Currículo (GGPEM/SEMP)*Andreza Shirlene Figueiredo de Souza*  
Chefe da Unidade de Currículo (GGPEM/SEMP)**Revisão***Andreza Shirlene Figueiredo de Souza*  
*Edney Alexandre de Oliveira Belo*

## Para início de conversa

Olá estudante,

Este caderno foi escrito especialmente para você, estudante do ensino médio noturno, que tem uma dinâmica diferente em seu cotidiano. Aqui você encontrará um Aprofundamento na área de Matemática de maneira diversa do ensino médio diurno, que deverá ser utilizado neste primeiro trimestre, com atividades e formas de discussão dos objetos de conhecimento de maneira mais próxima, mediadas por este material. Dúvidas podem ser tiradas com seus professores, sejam eles os tutores ou não.

Assim, este material, tem o objetivo de aprofundar conhecimentos que você já estudou ou está estudando na Formação Geral Básica (FGB) do nosso currículo de **Matemática** conforme indicado no item **Objetos de Conhecimento**. Dessa forma, este caderno propõe enfatizar o estudo da linguagem matemática, indicando suas peculiaridades, seus códigos bem definidos e suas representações os quais influenciam na realidade, auxiliando na interpretação, leitura e inferência para a para solução de problemas em diversos contextos. Os aprendizados e as práticas vivenciadas na Formação Geral Básica, serão aprofundados como instrumentos à ciência, à comunicação, à cultura e à tecnologia.

Vamos iniciar nossos estudos para trilhar os caminhos do conhecimento, aumentando nossa bagagem intelectual!

## Objetos do Conhecimento que serão aprofundados:

- Grandezas e medidas.
- Área de figuras geométricas planas.

## **Conceitos Fundamentais 1**

### **O fenômeno urbano e as relações espaciais**

O planejamento e a construção das cidades tem como objetivo atender às necessidades da população. As características espaciais como a localização das residências, os aspectos ambientais, os meios de transporte e deslocamentos para atividades profissionais e de lazer devem ser considerados, pelos profissionais responsáveis por desenvolverem projetos arquitetônicos, a interação e a percepção das pessoas com o ambiente, a fim de estabelecer os meios construtivos adequados à melhoria da circulação. A partir dessa perspectiva, as relações espaciais tornam-se fundamentais, à medida que corroboram para um sistema viário compatível com a demanda gerada pela circulação de veículos e pedestres, entregando às comunidades, obras estruturais de qualidade com menor impacto ambiental e econômico.

Disponível em: [Projetos Arquitetônicos](#).

O fenômeno urbano é um objeto complexo em permanente movimento (crescimento, expansão, transformação, segregação etc.) de múltiplas manifestações e de múltiplas implicações. Partindo-se dessas manifestações, o planejador precisa descobrir, ou melhor, definir e elucidar o problema da cidade em seu movimento de transformação permanente. Essa formulação vai além da simples descrição ou elaboração estatística. Ela busca a explicação do movimento da evolução urbana, para localizar por intermédio desse movimento o objeto real do planejamento urbano. Tal formulação realiza-se mediante a análise do movimento concreto de cada cidade e da busca de uma síntese explicativa para seu desenvolvimento. Somente a partir dessa formulação é que se torna possível a definição dos objetivos da ação planejadora. Os objetivos constituem-se em ações viáveis referentes e destinadas a mudar o movimento concreto da evolução urbana em suas tendências indesejadas. Essa intervenção prática estará, assim, garantida por um método científico que dirige a ação do planejador desde a definição do problema concreto até a formulação de propostas para o seu tratamento.

Disponível

em: <https://revista.enap.gov.br/index.php/RSP/article/download/2307/1206/6483>

A arquitetura se utiliza da relação entre projeto arquitetônico e configuração espacial, analisando a interdependência entre os atributos da forma e da estrutura espacial, a partir de padrões entre as funções das vias de acesso, ocupação, mobilidade e impactos socioculturais, ambientais e de acessibilidade.

Estudos de viabilidade técnica, ambiental e econômica são fundamentais para a construção de projetos rodoviários, de forma a identificar a alternativa mais viável a ser implantada. Perspectivas ambientais, sociais, construtivas, operacionais e de segurança devem ser consideradas pelos profissionais que desenvolverão e executarão o projeto de uma via urbana, com o objetivo de garantir eficiência, qualidade e menores custos na implantação de uma obra viária.

Disponível em: [Projetos Arquitetônicos](#).

Nessa perspectiva, apresentamos, como exemplo, trechos do estudo técnico de viabilidade para implantação de um binário, disponível em artigo científico devidamente referenciado.

## PESQUISA DE TRÁFEGO

Os procedimentos para o levantamento de dados de campo são as pesquisas, utilizadas na engenharia de tráfego, que são feitas mediante entrevista ou observação direta. Para a coleta de dados no trânsito temos as contagens volumétricas que visam estabelecer a quantidade, o sentido e a composição do fluxo de veículos que passam por um ou vários pontos do sistema viário em um determinado período, as informações coletadas com a contagem serão utilizadas em análise de congestionamento, acidentes, projetos de canalização do tráfego, no dimensionamento do pavimento e em diversas melhorias para o trânsito.

As contagens Volumétricas podem ser feitas da seguinte maneira:

### a) **Contagem manual**

São feitas com fichas e contadores manual, comumente utilizadas para a classificação de veículos, análise de interseção ou contagem em rodovias com muitas faixas, as vantagens do método consistem na fácil operação, com baixo custo e alta flexibilidade quanto a mudança de local de coleta em curto espaço de tempo.

### b) **Contagem automática**

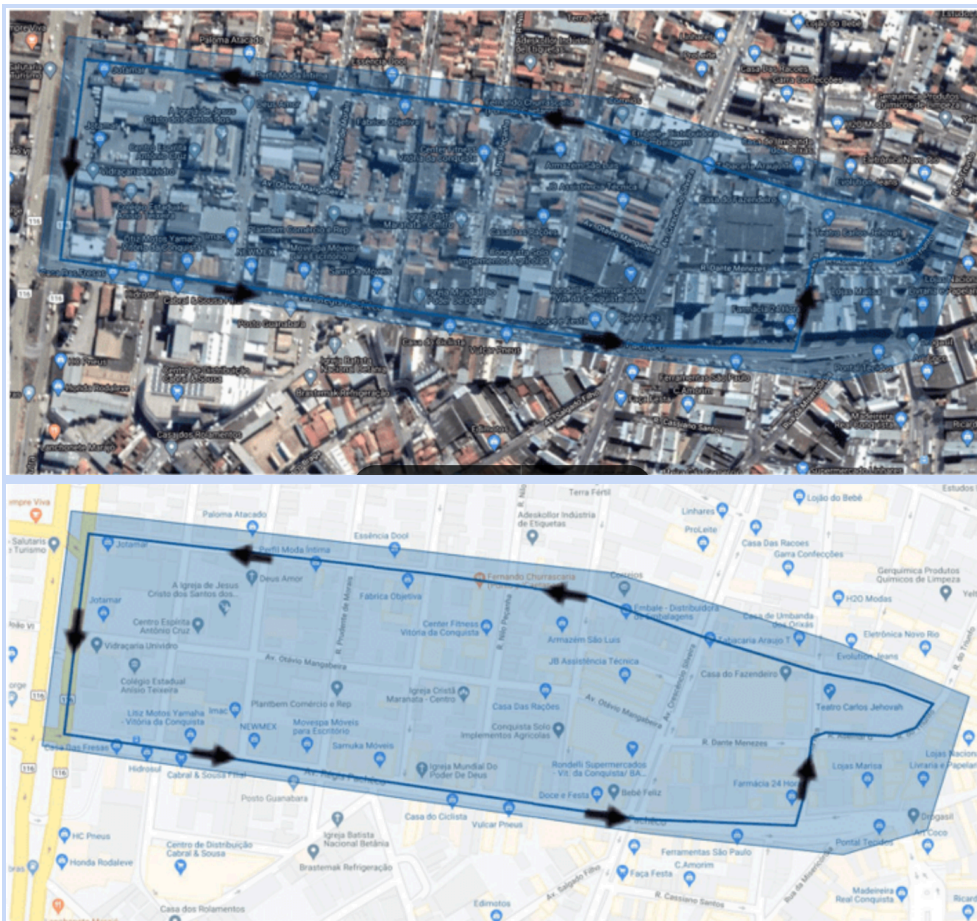
Nesse método as contagens são feitas de forma automatizada com diversos tipos de contadores, que detectam os veículos através de tubos pneumáticos ou dispositivos magnéticos, sonoros, células fotoelétricas entre outros, alguns desses contadores podem ser utilizados para outros fins. A desvantagem desse método se dá pelo custo elevado e a dificuldade de deslocamento para outro ponto de coleta, além de sua exposição a roubo e vandalismo.

### c) **Videoteipe**

Trata-se de um procedimento que consiste em utilizar câmeras de vídeo para determinar o volume de tráfego. Com este método muitas vezes se gasta mais tempo em sua instalação do que na própria coleta manual, mas oferece algumas vantagens como, permitir que apenas um observador levante todos os movimentos direcionais da via, por maior que seja, permite maior confiança nos resultados pois há provas em vídeos, possibilita obter outros dados na mesma coleta. A região de estudo para a implantação do sistema de binário tem como vias principais avenida Régis Pacheco e Avenida Centenário, tendo como vias que limitam a área de estudo a Avenida Presidente Dutra e Travessa Santa Rita, as demais vias que estão no centro do quadrilátero (apresentado na figura 02) farão parte do estudo. Essa área possui grande densidade de veículos e pedestres, além de ter uma quantidade considerada de moradores e trabalhadores.

Figura 01: Demarcação de área de estudo para implantação de sistema de binário





Fonte: Google Maps (2020).

A área de abrangência na área marcada corresponde à região de estudo, onde se encontram as Avenidas Régis Pacheco e Avenida Centenário, que são as vias principais do Binário, contemplam mais nove vias no sentido perpendicular e três vias no sentido paralelo às vias principais do estudo incluindo uma praça com área de estacionamento. O trabalho foi desenvolvido por meio de pesquisa de campo com levantamento de tráfego no local de estudo, tendo como metodologia de estudo a contagem volumétrica para análise de capacidade e nível de serviço da região estudada.

Disponível em: [Estudo técnico de viabilidade para implantação de binário de trânsito](#). Acesso em: 10 de fev. de 2025.

## Conceitos Fundamentais 2

### O que são vias?

Via é a superfície por onde transitam veículos, pessoas e animais (pista, calçada, acostamento, ilha e canteiro central). As vias são classificadas de acordo com o fim que ela é destinada, assim como o espaço geográfico em que se situa. Ressalta-se que nem sempre é fácil classificar as vias apenas pela observação de sua engenharia ou localização, sendo importante, por este motivo, que o órgão responsável divulgue a

classificação que considera adequada, em relação às vias sob sua área de atuação territorial.

A classificação de vias é levada em consideração, principalmente, para se estabelecer os limites de velocidade, sendo previsto inclusive, no artigo 61, limites pré-determinados, com base em tal classificação, para os trechos não sinalizados pelo órgão ou entidade executivo de trânsito ou rodoviário com circunscrição sobre o local. As vias são classificadas inicialmente como **Urbanas e Rurais**. Se uma localização possuir imóveis edificados ao longo de sua extensão, essa por sua vez é classificada como Via Urbana.

A classificação das Vias Urbanas:

**Via arterial** – Aquela caracterizada por interseções em nível, geralmente controlada por semáforo, com acessibilidade aos lotes lindeiros e às vias secundárias e locais, possibilitando o trânsito entre as regiões da cidade.

**Via coletora** – Aquela destinada a coletar e distribuir o trânsito que tenha necessidade de entrar ou sair das vias de trânsito rápido ou arteriais, possibilitando o trânsito dentro das regiões da cidade.

**Via de trânsito rápido** – Aquela caracterizada por acessos especiais com trânsito livre, sem interseções em nível, sem acessibilidade direta aos lotes lindeiros e sem travessia de pedestres em nível.

**Via local** – Aquela caracterizada por interseções em nível não semaforizadas, destinada apenas ao acesso local ou a áreas restritas.

Classificação das Vias Rurais:

➤ **Rodovia** – Via rural pavimentada.

➤ **Estrada** – Via rural não pavimentada.

Algumas vias, por exemplo, permitem maior velocidade que outras, há vias que são utilizadas como acesso à residência em que não possui uma grande movimentação de veículos e outras que diferentemente a movimentação é alta, e por isso é que se resolveu classificar cada uma destas vias para que tivessem um maior controle, tanto os condutores como os fiscalizadores e órgãos responsáveis pelo trânsito.

Disponível em: <https://clubedetrans.com.br/classificacao-vias-de-transito/>. Acesso em: 22 ago. 2022

## Geometria da via

A geometria da via, ou o traçado da rodovia, é definido como um alinhamento que tem por função representar o eixo principal em planta e em perfil. Com o alinhamento principal são definidos outros parâmetros como as faixas de rolamento, plataforma, acostamento, drenagem e os taludes em seção de cortes e aterros. Por teoria, a geometria nos ensina que a menor distância entre dois pontos é uma reta. Entretanto, o traçado de uma rodovia nem sempre pode ser apenas uma reta, devido os altos custos envolvendo escavações e a topografia dos locais.

Dessa forma, objetiva-se uma alternativa em que os benefícios sejam superiores aos custos no período do projeto, geralmente mais do que 30 anos.

Dentre os fatores que influenciam na geometria da via, podemos destacar:

- Relevo;
- Condições Geológicas e Geotécnicas;
- Condições hidrológicas;
- Impactos ambientais;
- Volumes de Terraplenagem e distâncias de Transporte;
- Construções especiais;

### ➤ Interferência em outras obras.

O tipo de relevo influencia no traçado devido a necessidade de movimentação de terra, onde relevos ruins exigem movimentações mais custosas que só são consideradas viáveis em situações de elevado volume de tráfego. Os tipos de relevo são:

**Plano:** Exige pequeno volume de movimentação onde não há a necessidade de obras especiais e de elevado custo. Além disso, permite um projeto com boa distância de visibilidade.

**Ondulado:** Exige volume de movimentação médio, com curvas suaves e pequenas inclinações.

**Montanhoso:** Possui mudanças significativas de elevação, onde é necessário grandes movimentações de terra, curvas acentuadas e construção de túneis.

O tipo de relevo é identificado por cartas topográficas e mapeamentos do IBGE, por exemplo. As imagens de satélite auxiliam também na classificação básica do relevo. As condições geológicas e geotécnicas são importantes para os projetos de terraplenagem e fundação das obras. São realizadas sondagens que permitam a identificação das propriedades do material coletado, bem como para verificar a dificuldade de cortes no solo e a permeabilidade. O projeto geométrico deve evitar cortes em rochas, cortes que atinjam lençol freático ou aterros em solo mole, pois nesses casos é necessária a aplicação de técnicas especiais e de elevado custo. As condições hidrológicas são necessárias para os projetos de drenagem das rodovias, verificando o volume de descarga de água nos exutórios das bacias. O traçado deve evitar, quando possível, as travessias em rios e córregos. Além disso, deve-se evitar traçados com agressão ambiental como por exemplo em regiões de preservação ambiental.

Disponível em: [Os Fatores que influenciam na Geometria de uma Rodovia – Além da Inércia](#) Acesso em: 23 ago. 2022.

## **Conceitos Fundamentais 3**

### **Modelo urbano e conceitos matemáticos**

A geometria urbana favorece a apresentação de gráficos que representam o cotidiano dos moradores, as ruas, viadutos, casas, vias públicas de forma a reproduzir cidades planejadas, com quadras de medidas congruentes e espaços adequados.

O uso da representação matemática na construção de projetos, contribui significativamente de forma a mitigar e até solucionar problemas urbanos diversos, pois apresenta maior clareza na sistematização e é auxiliado pelo pensamento matemático favorecendo a tomada de decisões.

Na geometria urbana, desenvolve-se várias maneiras de deslocamento entre dois pontos e não só o segmento que representa a hipotenusa, na geometria usual, como sendo a única solução. Ela se aproxima da realidade, pois emprega um sistema retangular facilitando o movimento dentro de um bairro ou cidade, organizados em ruas similares a um sistema cartesiano ortogonal.

Disponível em: [Projetos Arquitetônicos](#).



**Revisando o conhecimento:** revise seu conhecimento, sobre plano cartesiano, assistindo ao vídeo do link abaixo:



Clique aqui: [Cada local de uma cidade plana pode ser representado por um par ordenado \(x, y\) em um plano.](#)

## **Conceitos Fundamentais 4**

### **Matemática como recurso de acessibilidade**

Utilizando os conceitos proporcionalidade, trigonometria, e a fórmula da inclinação estando esta disponibilizada no item 6.6.2 da norma regulamentadora:

$$i = (h \times 100) / c$$

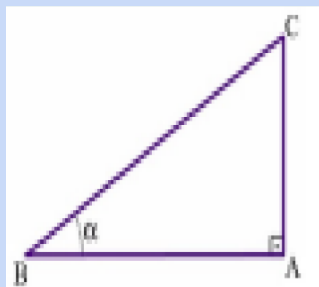
onde: i é a inclinação em porcentagem, h é o desnível da rampa (altura da rampa) e c é a projeção horizontal da rampa sobre o solo. O triângulo ABC, presente na vista lateral da Figura 1, é um triângulo retângulo.

Analisando a equação da NBR 9050, é possível notar que a razão entre a altura da rampa (cateto oposto) e o comprimento da projeção horizontal da rampa (cateto adjacente) é conhecida como tangente de um ângulo.

Disponível em:

[MATEMÁTICA E ACESSIBILIDADE: UM ESTUDO DE RAMPAS<sup>1</sup> MATHEMATICS AND ACCESSIBILITY: A STUDY OF RAMPS<sup>2</sup>](#) Luigui Rahmeier Silva<sup>2</sup>. Clara. Acesso em 04 set. 2022.

Figura 1 – Triângulo retângulo.



Fonte elaborada pelos autores (2018) [Projetos Arquitetônicos](#).

Considera a tangente do ângulo  $\alpha$  (Equação 2), a razão entre cateto oposto e cateto adjacente (IEZZI, 2013).

$$\tan \alpha = (\text{cateto oposto de } \alpha) / (\text{cateto adjacente de } \alpha)$$

Onde  $\alpha$  é o ângulo em estudo, cateto oposto de  $\alpha$  é a altura da rampa e cateto adjacente de  $\alpha$  é projeção horizontal da rampa. Assim, é possível trabalhar com as razões trigonométricas através da rampa de acesso. A equação, apresentada nas normas de regulamentação, foi usada para descobrir a inclinação em porcentagem das rampas. A relação trigonométrica foi usada para encontrar o ângulo de inclinação das rampas. A inclinação em porcentagem de rampas e rodovias é discutida dessa forma, conforme normas técnicas, portanto,  $\tan \alpha = i$ , multiplicando o valor por 100, obtém-se o resultado em porcentagem.

Conforme as normas Brasileiras de Acessibilidade a edificações, mobiliário, espaços e equipamentos urbanos, ABNT NBR 9050/2015, para que as rampas em pesquisa estejam em acordo, as mesmas deverão manter o máximo de 8,33% em seu aclave, conforme a Tabela 1 e o item 6.6.2.1.

Dimensionamento de rampas.

Desníveis máximos de cada segmento de rampa h (m)	Inclinação admissível em cada segmento de rampa i (%)	Número máximo de segmentos de rampa
1,50	5,00 (1:20)	Sem limite
1,00	5,00 (1:20)	Sem limite
0,80	6,25 (1:16) < i ≤ 8,33 (1:12)	15

Fonte: ABNT NBR 9050/2015 (2015, p. 59)

Em relação às situações encontradas nas ruas da cidade, utilizou-se o item 6.6.2.2 instituindo que em reformas, quando esgotadas as possibilidades de soluções que atendam integralmente à Tabela [...], podem ser utilizadas inclinações superiores a 8,33% (1:12) até 12,5% (1:8) (ABNT NBR 9050/2015, 2015, p. 59). A Tabela 2 apresenta as dimensões das rampas em situações excepcionais citadas na norma 6.6.2.2.

Dimensionamento de rampas para situações excepcionais.

Desníveis máximos de cada segmento de rampa h (m)	Inclinação admissível em cada segmento de rampa i (%)	Número máximo de segmentos de rampa
0,20	8,33 (1:12)	4
0,075	10,00 (1:10)	1

Fonte: ABNT NBR 9050/2015 (2015, p. 59)

A largura das rampas deve ser estabelecida de acordo com o fluxo de pessoas, embora a largura recomendada seja de 1,50 m, a norma 6.6.2.5 estabelece que a largura livre mínima recomendável para as rampas em rotas acessíveis é de 1,50 m, sendo o mínimo admissível de 1,20 m (ABNT NBR 9050/2015, 2015, p. 59).


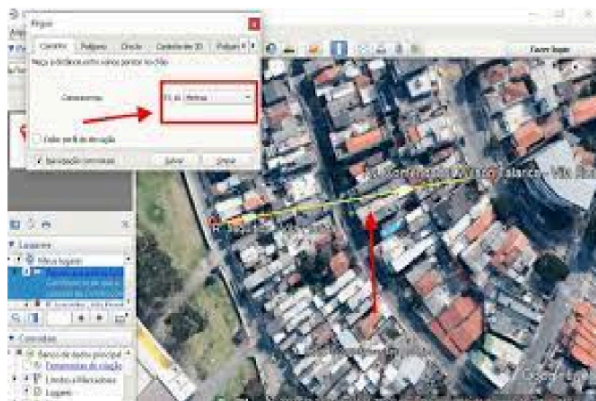
Disponível em:

[MATEMÁTICA E ACESSIBILIDADE: UM ESTUDO DE RAMPAS](#)<sup>1</sup> [MATHEMATICS AND ACCESSIBILITY: A STUDY OF RAMPS](#) Luigui Rahmeier Silva<sup>2</sup>. Clara. Acesso em: 04 set. 2022.

## Roteiro de atividade

### Questão 1

1. Realize uma atividade de pesquisa, através de ambientes virtuais, em sua comunidade, explorando, por exemplo, o software *Google Earth*, identifique e marque, com recursos disponíveis na barra de ferramentas do software, a sua residência e localização na rua, as vias de acesso ao seu bairro, as ciclovias e rodovias. Os marcadores disponíveis na plataforma são manipuláveis, você pode medir o comprimento das principais vias do bairro, a distância entre a padaria e a farmácia etc.



Disponível em: [Como medir distâncias com o Google Earth](#). Acesso em: 21 fev.. 2025


## Questão 2

2. Após levantamento das características das vias de acesso à sua comunidade, realize uma atividade de campo de forma a visualizar a partir de imagens fotográficas e, posteriormente, a construção de croquis dessas vias, indicando as dificuldades no acesso e deslocamento da população no que tange a calçada de pedestres, pavimentação preservada ou não, apresentando desgastes, buracos ou ondulações, a presença de acostamento, pintura das faixas, sinalização, ligações que facilitam ou inviabilizam a visualização dos espaços de rolamento dos veículos e acessibilidade para cadeirantes, idosos e cegos.

## Questão 3

3. Observe a disposição de ruas a seguir, imitando o comportamento de um plano cartesiano com origem (0,0) no encontro entre as ruas 1 e F: Rua A Rua B Rua C Rua D Rua E Rua F Rua 1 Rua 2 Rua 3 Rua 4 Rua 5 Rua 6. Sabendo que a distância entre ruas paralelas seguidas é a mesma e que a distância entre a rua E e D é 1 km, qual a distância entre a esquina E2 e a esquina A5?

Observe a disposição de ruas a seguir, imitando o comportamento de um plano cartesiano com origem (0,0) no encontro entre as ruas 1 e F:



Sabendo que a distância entre ruas paralelas seguidas é a mesma e que a distância entre a rua E e D é 1 km, qual a distância entre a esquina E2 e a esquina A5?

Disponível em: <https://brainly.com.br/tarefa/58056672>.

#### Questão 4

**4 . Responda Verdadeiro (V) ou Falso (F) em relação ao enunciado abaixo.**

As principais características espaciais que devem ser consideradas são: localização das residências, os aspectos ambientais, os meios de transporte de deslocamentos para atividades profissionais e de lazer.

#### Questão 5

**5. São fundamentais para a construção de projetos rodoviários estudos de viabilidade:**

- a) técnica, climatológica e econômica.
- b) técnica, ambiental e econômica.
- c) climatológica, técnica e ambiental.
- d) técnica, ambiental e climatológica.

### Questão 6

**6. As contagens Volumétricas podem ser feitas da seguinte maneira:**

- a) Contagem manual, contagem automática e contagem seletiva.
- b) Contagem manual, contagem por amostragem e videoteipe.
- c) Contagem manual, contagem automática, videoteipe.
- d) Contagem seletiva, contagem automática, videoteipe.
- e)

### Questão 7

**7. A classificação das Vias Urbanas:**

- a) Via arterial, via coletora, via de trânsito rápido, via local.
- b) Via arterial, via coletora, rodovia, via local.
- c) Via arterial, rodovia, via de trânsito rápido, estrada.
- d) Rodovia, estrada, via de trânsito rápido, via local.

### Questão 8

**8. Dentre os fatores que influenciam na geometria da via, podemos citar:**

- a) Relevo;
- b) Condições Geológicas e Geotécnicas.
- c) Condições hidrológicas.
- d) Todas as alternativas.
- e) Nenhuma das alternativas.

### Questão 9

**9. Os tipos de relevo são:**

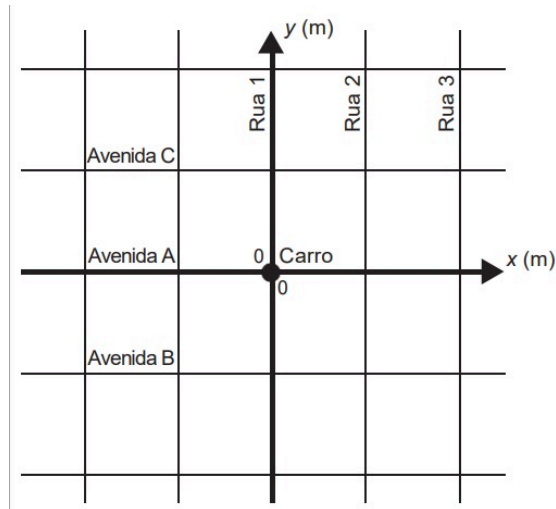
- a) Plano, nivelado e montanhoso;
- b) Nivelado, ondulado e montanhoso;
- c) Inclinado, nivelado e montanhoso;
- d) Plano, ondulado e montanhoso.

### Questão 10

**10. (ENEM 2022)** Uma moça estacionou seu carro na interseção da Rua 1 com a Avenida A. Ela está hospedada em um hotel na Rua 3, posicionado a exatos 40 metros de distância da Avenida A, contados a partir da Avenida A em direção à Avenida B.



No mapa está representado um plano cartesiano cujo eixo das abscissas coincide com a Avenida A e o das ordenadas, com a Rua 1, sendo a origem  $(0, 0)$  o local onde se encontra estacionado o veículo. Os quarteirões formados pelos cruzamentos dessas vias formam quadrados de lados medindo 100 m.



A ordenada do ponto que representa a localização do hotel é

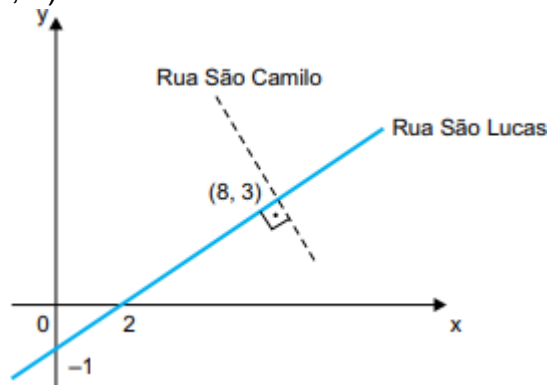
**Alternativas**

- a) - 60.
- b) - 40.
- c) 0.
- d) 40.
- e) 60.

Disponível em: [Prova do Enem 2015 Segunda Aplicação](#)

### Questão 11

11. Cada local de uma cidade plana pode ser representado por um par ordenado  $(x, y)$  em um plano cartesiano desenhado sobre o mapa dessa cidade. A figura mostra esse plano cartesiano, com a indicação de duas ruas retilíneas que são perpendiculares no ponto de coordenadas  $(8, 3)$ .



Mariana mora nessa cidade, no ponto em que a representação da Rua São Camilo no plano cartesiano intersecta o eixo x.

**Esse ponto tem coordenadas**

- a)  $(10, 0)$
- b)  $(21/2, 0)$
- c)  $(11, 0)$

- d) (17/2 , 0)  
e) (19/2 , 0)

Disponível em: [FAMERP 2024 Cada local de uma cidade plana pode ser representado por um - Estuda.com ENEM](#).

## Referência

ASSOCIAÇÃO BRASILEIRA DE NORMAS TÉCNICAS. NBR 9050: Acessibilidade a edificações, mobiliário, espaços e equipamentos urbanos. Rio de Janeiro, 2015. 148p.  
ALMEIDA, V. C. S. A. Projetos Arquitetônicos. Secretaria de Educação de Pernambuco. Disponível em: ALMEIDA, Victor Hugo Gomes. ABILIO, Bianca Nunes. LIMA, Livia Ramos. Estudo técnico de viabilidade para implantação de binário de trânsito nas Avenidas Régis Pacheco e Centenário – Vitória da Conquista – BA. Revista Científica Multidisciplinar Núcleo do Conhecimento. Ano 05, Ed. 11, Vol. 15, pp. 17-32. Novembro de 2020. Fonte disponível em: <https://www.nucleodoconhecimento.com.br/engenharia-civil/binario-de-transito>. Acesso em: 15/09/2022.

BRAINLY. 2023. Disponível em: <https://brainly.com.br/tarefa/58056672>. Acesso em: 09 mai. 2024.

GONZALES, Suely Franco Netto. Proposições sobre o objeto e o método do planejamento urbano. Fonte disponível em: <https://revista.enap.gov.br/index.php/RSP/article/download/2307/1206/6483> Acesso em: 21 ago de 2022.

### Vídeos

Vídeo 1. Cada local de uma cidade plana pode ser representado por um par ordenado (x,y) em um plano. Disponível em: <https://www.youtube.com/watch?v=UyCFYsdlwXk>. Acesso em: 09 mar. 2025.

Disponível em: Disponível em: [https://portal.educacao.pe.gov.br/wp-content/uploads/2025/02/Organizador-Curricular-TRIMESTRAL\\_MAT\\_Versao-final-1.pdf](https://portal.educacao.pe.gov.br/wp-content/uploads/2025/02/Organizador-Curricular-TRIMESTRAL_MAT_Versao-final-1.pdf). Acesso em: 10 fev. de 2025.

Disponível em: <https://portal.educacao.pe.gov.br/wp-content/uploads/2024/05/PROJETOS-ARQUITETONICOS.pdf>. Acesso em: 27 fev. de 2025.